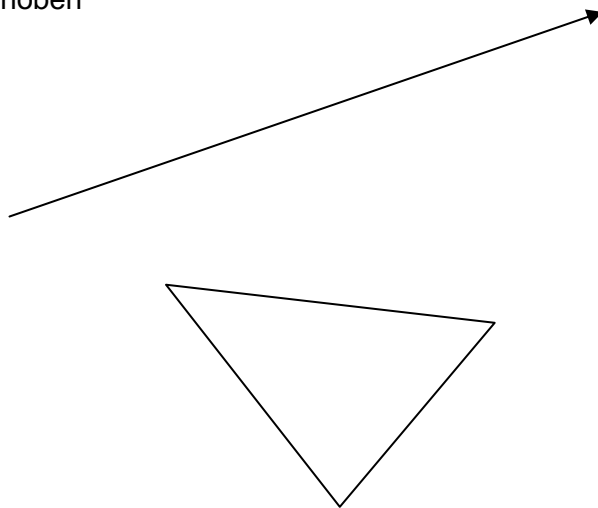


Übung 1

GEG : ABC , Vektor v

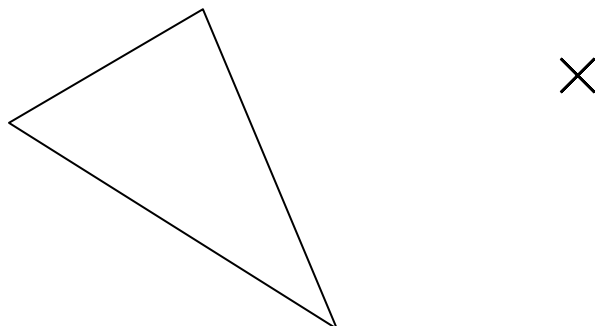
GES : $A'B'C'$ (verschoben
um v)



Übung 2

GEG : ABC , Spiegelpunkt S

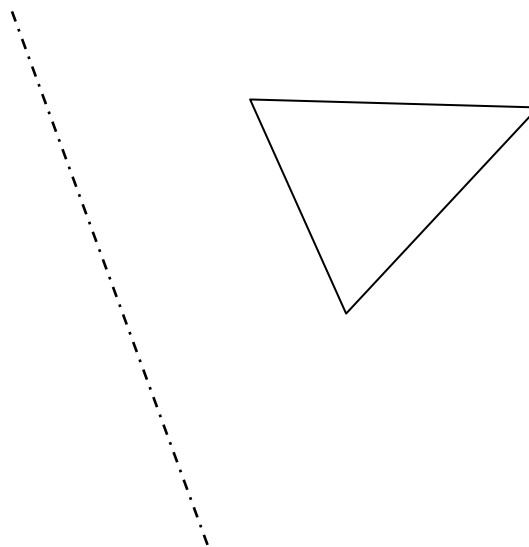
GES : $A'B'C'$ (gespiegelt an S)



Übung 3

GEG : ABC, Spiegelachse s

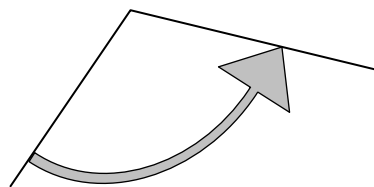
GES : A'B'C' (gespiegelt an s)



Übung 4

GEG : ABC, Drehzentrum Z,
Drehwinkel δ

GES : A'B'C' (gedreht um Z)



×

